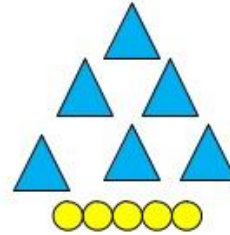
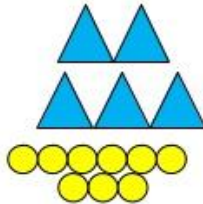
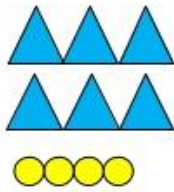
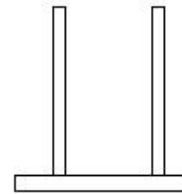
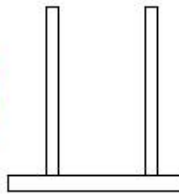
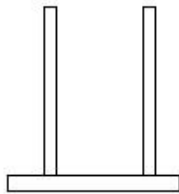


# Οι αριθμοί ως το 70 (2)








Ποιος είναι ο αριθμός; Κάθε τρίγωνο μετράει για μια Δεκάδα και κάθε κύκλος για μια Μονάδα.



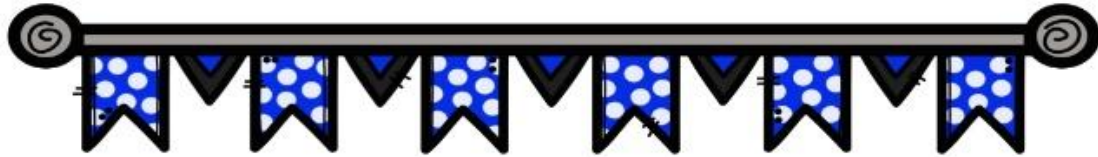
Σχημάτισε τους παραπάνω αριθμούς στους άβακες. Με κόκκινο τις Δεκάδες και πράσινο τις Μονάδες.



Βρες τον αριθμό πριν και μετά.



Χατσίκου Ιωάννα



Ώρα για λίγες κάθετες προσθέσεις:

$\Delta M$	$\Delta M$	$\Delta M$	$\Delta M$
14	22	17	35
+12	+20	+ 2	+ 13
<hr/>	<hr/>	<hr/>	<hr/>
<input type="text"/>	<input type="text"/>	<input type="text"/>	<input type="text"/>

$\Delta M$	$\Delta M$	$\Delta M$	$\Delta M$
32	16	24	63
+27	+43	+ 5	+ 14
<hr/>	<hr/>	<hr/>	<hr/>
<input type="text"/>	<input type="text"/>	<input type="text"/>	<input type="text"/>

25	27	15	70
+ 11	+ 10	+14	+ 7
<hr/>	<hr/>	<hr/>	<hr/>
<input type="text"/>	<input type="text"/>	<input type="text"/>	<input type="text"/>

$\Delta M$	$\Delta M$	$\Delta M$	$\Delta M$
16	25	42	51
+12	+ 21	+ 7	+ 13
<hr/>	<hr/>	<hr/>	<hr/>
<input type="text"/>	<input type="text"/>	<input type="text"/>	<input type="text"/>

- Ποιοι αριθμοί από το 20 έως το 60 τελειώνουν σε 4;  
Τους γράφω στα κουτάκια από το μικρότερο στο μεγαλύτερο:

<  <  <



Προβλήματα:

1<sup>ο</sup> : Ο Νίκος διάβασε από ένα βιβλίο 36 σελίδες χτες και άλλες 13 σήμερα. Πόσες σελίδες διάβασε συνολικά;



Θα κάνω \_\_\_\_\_

.....

.....

Απαντώ:.....

2<sup>ο</sup> : Σ'ένα δέντρο κάθονταν 18 πουλιά. Πριν λίγο ήρθαν άλλα 3. Πόσα είναι όλα τα πουλιά τώρα;

Θα κάνω \_\_\_\_\_

.....

.....

Απαντώ \_\_\_\_\_

