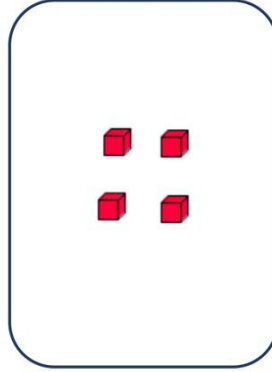
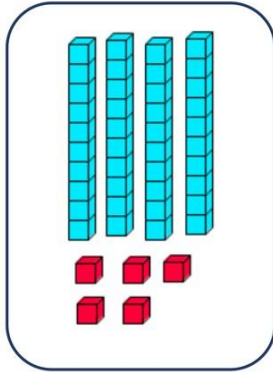




1

Να γράψεις τους αριθμούς και να τους προσθέσεις.

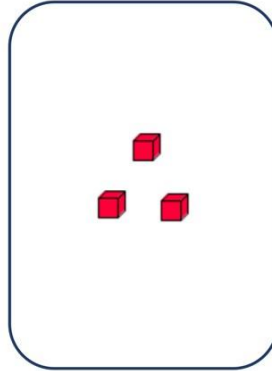
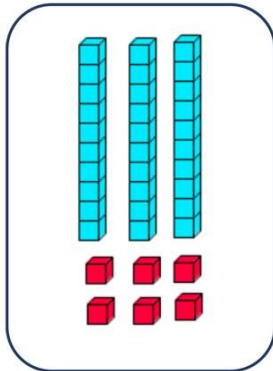


+

=

2

Να γράψεις τους αριθμούς και να τους προσθέσεις.



+

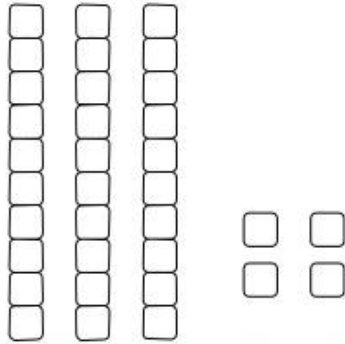
=



Σχηματίζω διψήφιους αριθμούς

Όνομα:.....

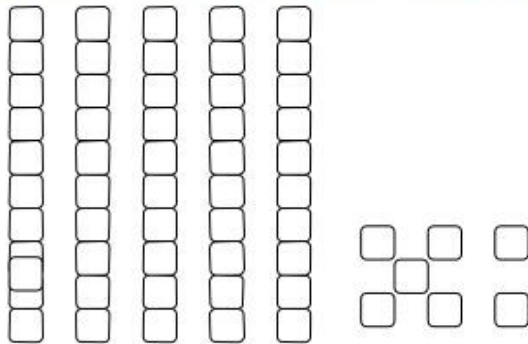
Βρες πόσα είναι τα κυβάρια και διάλεξε κάθε φορά το σωστό αριθμό:



44

43

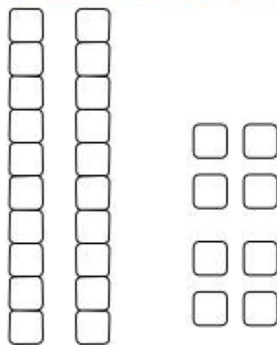
34



75

57

47



27

28

18



ΠΡΟΒΛΗΜΑΤΑ

ΚΕΦ.37

Σοφοκλής



Μαρίνα



Ασπασία



8 €

Πόσα λεφτά έχει ο Σοφοκλής; _____ Πόσα λεφτά έχει η Μαρίνα; _____

Πόσα λεφτά έχει η Ασπασία; _____

Ποια παιδιά μπορούν να αγοράσουν την μπάλα;

Πόσα ρέστα θα πάρει η Ασπασία; _____

Πόσα λεφτά χρειάζεται ακόμα η Μαρίνα; _____

Πόσα περισσότερα λεφτά έχει η Ασπασία από το Σοφοκλή;

Πόσα περισσότερα λεφτά έχει η Ασπασία από τη Μαρίνα;

Χατσιού Ιωάννα <http://taksiasterati.blogspot.gr>