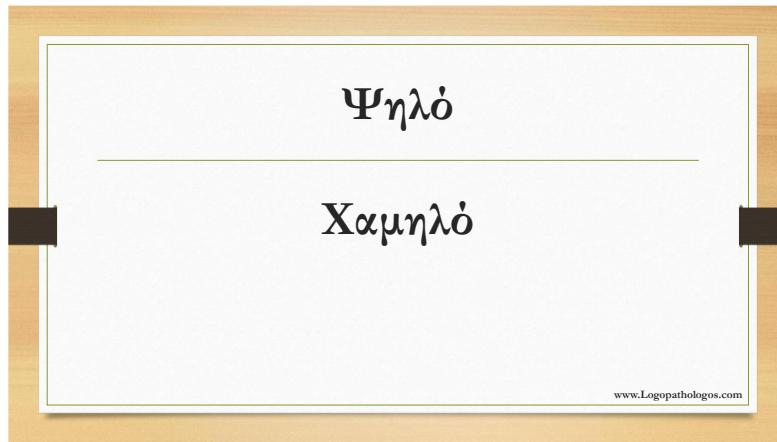



Μετρήσεις

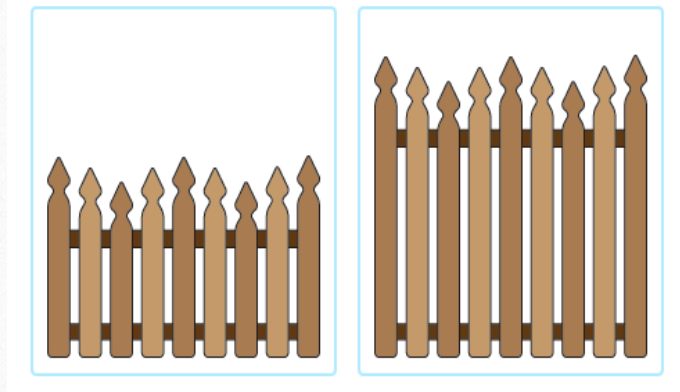


Κύκλωσε τη σωστή απάντηση.

Ποια λάμπα είναι ψηλότερη;

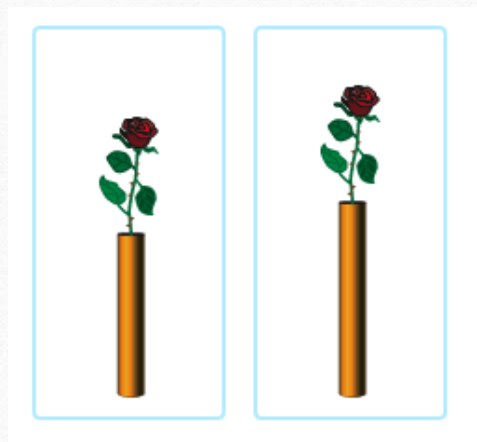


Ποιος φράχτης είναι χαμηλότερος;




www.Logopathologos.com

Ποιο βάζο λουλουδιών είναι χαμηλότερο;




www.Logopathologos.com

Ποια στοίβα μπλοκ είναι χαμηλότερη;



www.Logopathologos.com

Ποιος πύραυλος είναι ψηλότερος;



www.Logopathologos.com