

NOME:

DATA: / /

COMPLETE AS CASINHAS COM OS VIZINHOS DE CADA NÚMERO:



profrafaelak.blogspot.com

<https://profrafaelak.blogspot.com/2019/09/atividades-para-imprimir-de-matematica.html>


ΓΡΑΦΩ ΣΤΟ ΤΕΤΡΑΔΙΟ ΜΟΥ ΤΟΥΣ ΑΡΙΘΜΟΥΣ ΠΟΥ ΛΕΙΠΟΥΝ.(Προηγούμενο και επόμενο από τον αριθμό που είναι γραμμένος)

Συμπληρώνω στο τετράδιο μου τους αριθμούς που λείπουν

NOME: _____ DATA: / /

COMPLETE A SEQUÊNCIA NUMÉRICA:

0	1	2							
10									
20									
30									
40									





A black and white cartoon illustration showing three characters playing in the rain. On the left, a rabbit-like character is laughing. In the center, a large bear is holding a spoon and eating. On the right, a dog is sitting and looking up. The background shows rain falling. A vertical watermark 'p1011arawak.blogspot.com' is visible on the right side of the illustration.

Γράφω στο τετράδιο μου τον προηγούμενο αριθμό από αυτόν που είναι στο κουτάκι. (Συμβουλεύομαι τους αριθμούς που είναι στη διπλανή στήλη)

Number Before

Cut out and match to the number below.

	<input type="text"/>	47
	<input type="text"/>	23
	<input type="text"/>	50
	<input type="text"/>	71
	<input type="text"/>	42
	<input type="text"/>	60
	<input type="text"/>	84
	<input type="text"/>	48
	<input type="text"/>	70

22
69
46
59
49
47
41
83
70

©2010 Teacher's Pay Teachers © 2010

