



Επανάληψη διψήφιους αριθμούς – αριθμογραμμές

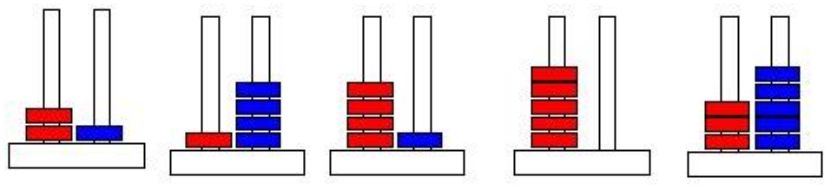
Όνομα:.....

1. Συμπληρώνω με το σύμβολο που ταιριάζει (>, <, =) :

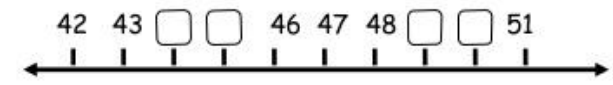
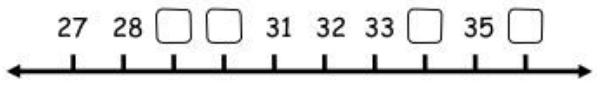
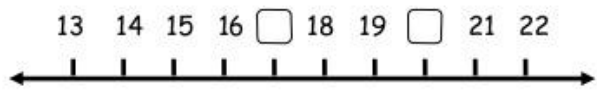
23 32 42 24 35 53

14 41 62 26 81 18

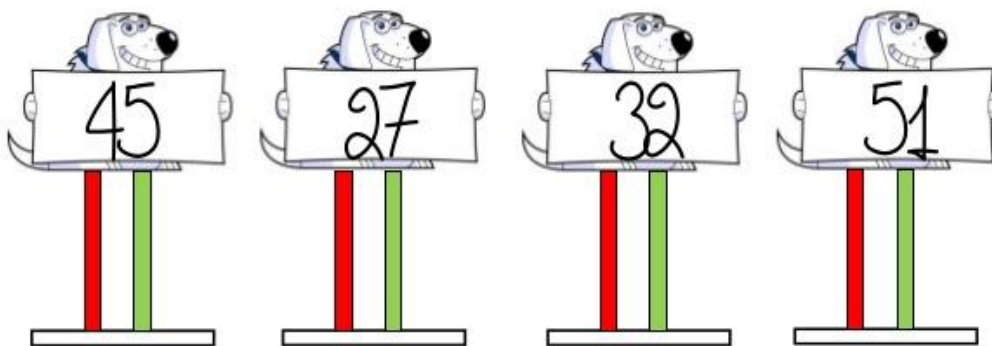
2. Γράφω τους αριθμούς που δείχνουν οι άβακες:



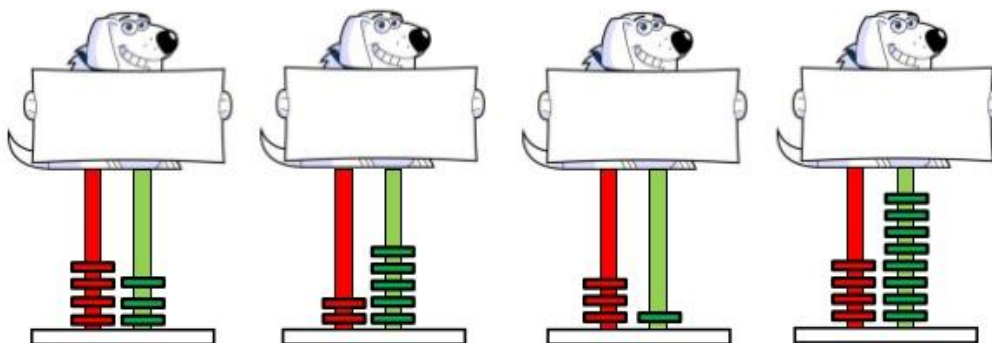
3. Στις παρακάτω αριθμογραμμές συμπληρώνω τους αριθμούς που λείπουν:



Φτιάξε στον άβακα τον αριθμό του σκύλου.



Ποιον αριθμό κρατά ο σκύλος;






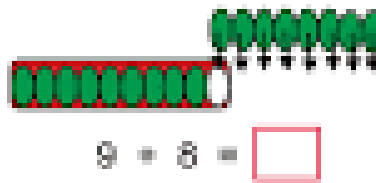
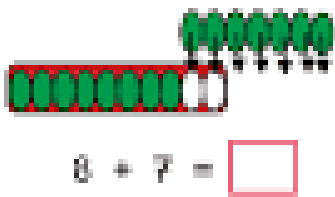
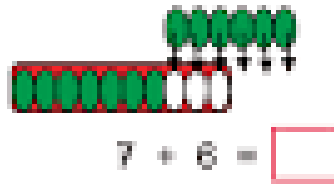
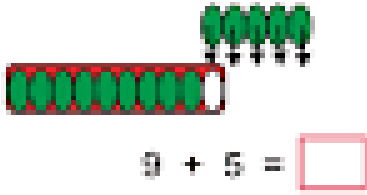
Παρουσίασε τον αριθμό με διάφορους τρόπους.

Με άβακα	Με μπίλιες	Με αριθμό	Με λέξη
		23	είκοσι τρία
		37	
			νηνίκα δύο

Ενώσε τις κλάσεις από το 1 έως το 25, για να σχηματίσει τον λαγό του Πάσχα.
Έλατε να φάμε όπως μπορεί!

ΚΑΛΟ ΠΑΣΧΑ





ΚΑΝΩ ΤΙΣ ΠΡΟΣΘΕΣΕΙΣ

Κυκλώνω

- Το τρίτο γάντι:



- Το πέμπτο αρκουδάκι:



- Το δέκατο αστέρι:



- Το όγδοο ελαφάκι:



- Το έκτο πγκουινάκι:



- Τον πρώτο σκούφο:



- Την τέταρτη κάλτσα:



- Τον δεύτερο χιονάνθρωπο:



- Το έβδομο πουλόβερ:



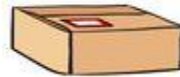
ΜΑΘΗΜΑΤΙΚΑ 2^η ΕΝΟΤΗΤΑ

Κεφ.13: Γνωρίζω καλύτερα τα γεωμετρικά στερεά

1. Γράφω κάτω από κάθε εικόνα ποιο γεωμετρικό στερεό μου θυμίζει.

























ΜΑΘΗΜΑΤΙΚΑ 1^η ΕΝΟΤΗΤΑ

Κεφ.3: Λύνω προβλήματα με ζωγραφική και παιχνίδια

1. Ο Φώτης θέλει να μοιράσει δίκαια 6 κόκαλα σε δύο σκύλους.
Πόσα κόκαλα πρέπει να δώσει στον καθένα;



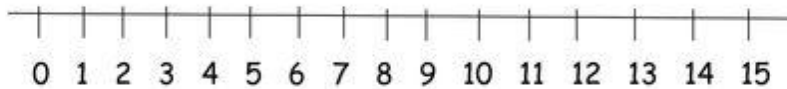
2. Ο παππούς της Νατάσας, έχει ένα περιβόλι με 27 μηλιές.
Πόσες πρέπει να φυτέψει ακόμη, ώστε να έχει:

α) 30 μηλιές: _____

β) 35 μηλιές: _____



3. Ο Χάρης έχει 12 αυτοκινητάκια. Ο Μηνάς έχει 4 αυτοκινητάκια λιγότερα από το Χάρη. Πόσα αυτοκινητάκια έχει ο Μηνάς; (Δείχνω στην αριθμογραμμή)



Απάντηση: _____