

Μετρώ τα αντικείμενα μέσα στα κουτάκια και τα ενώνω με το σωστό αριθμό



Cijfers



•

•


9



•

•

7



•

•

8



•

•

10



•

•

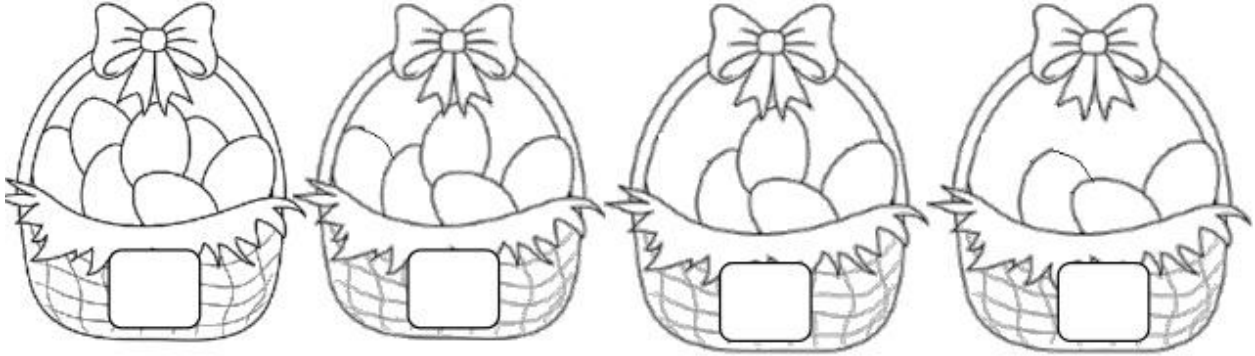
6




Hoeveel plaatjes zie je?
Trek een lijn naar het juiste cijfer.

Φύλλο Εργασίας
Μαθηματικά με Πασχαλινά Αυγά

Μέτρησε πόσα αυγά έχει κάθε καλάθι και γράψε τον αριθμό



Σε κάθε καλάθι ζωγράφισε όσα αυγά λέει ο αριθμός



Ποιο καλάθι έχει τα περισσότερα αυγά;



Όνομα:..... Ημερομηνία:.....

Κυκλώνω τον αριθμό 7



Cijfer 7



Kijk goed naar alle cijfers en zoek het cijfer 7.
Zet een rondje om alle cijfers 7.

ΜΕΤΡΩ ΚΑΙ ΚΥΚΛΩΝΩ ΤΟ ΣΩΣΤΟ ΑΡΙΘΜΟ

Count the pictures and circle the correct number.





Cijfer 5

5 10 0 5

7 3 4 2

5 6 9 7 5

8 1 5 8 3

5 4 9

10 6 5



Kijk goed naar alle cijfers en zoek het cijfer 5.
Zet een rondje om alle cijfers 5.

ΚΥΚΛΩΝΩ ΤΟ 5

<https://gr.pinterest.com/pin/436497388882725436/>

Μετρώ τα αντικείμενα στα κουτάκια και κυκλώνω το σωστό αριθμό

Count the number of pictures in each row and circle the correct number.


	2	1
	7	5
	6	8
	7	5
	8	6
	7	9

Κυκλώνω τόσα, όσα μου δείχνει ο αριθμός



Cijfers

7



9




6



10



8



Welk cijfer staat er voor de plaatjes?
Zet een rondje om hetzelfde aantal plaatjes.

