

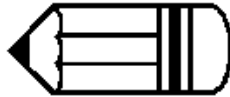











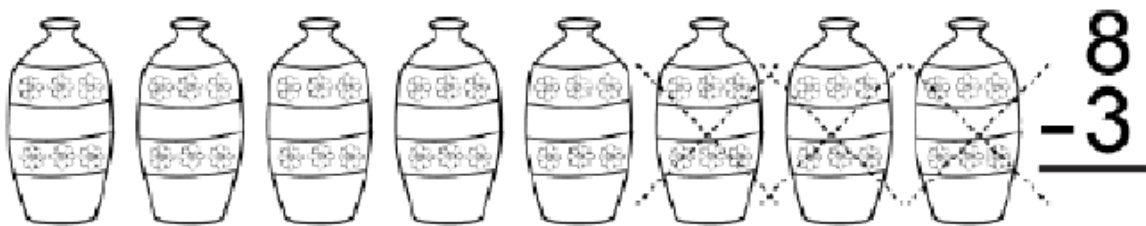


όνομα: _____

Ώρα για σχολείο!

Γράψε με αριθμούς τις προτάσεις που θα διαβάσεις.
Κάνε την πράξη. Λύσε το πρόβλημα.

<p>4  κάθισαν στο θρανίο.</p> <p>3  κάθισαν στο θρανίο.</p> <p>_____ + _____ = _____</p>	<p>6 </p> <p>και 2 </p> <p>Πόσα μολύβια;</p> <p>_____ + _____ = _____</p>
<p>2  για τη δασκάλα.</p> <p>και</p> <p>3  για τα παιδιά.</p> <p>_____ + _____ = _____</p>	<p>3 </p> <p>και 7 </p> <p>Πόσοι χάρακες;</p> <p>_____ + _____ = _____</p>
<p>5  στο διάλειμμα.</p> <p>και</p> <p>4  στο ολοήμερο.</p> <p>_____ + _____ = _____</p>	<p>7  στην ορθογραφία.</p> <p>και</p> <p>2  στην αντιγραφή.</p> <p>Πόσα αστεράκια πήρες;</p> <p>_____ + _____ = _____</p>

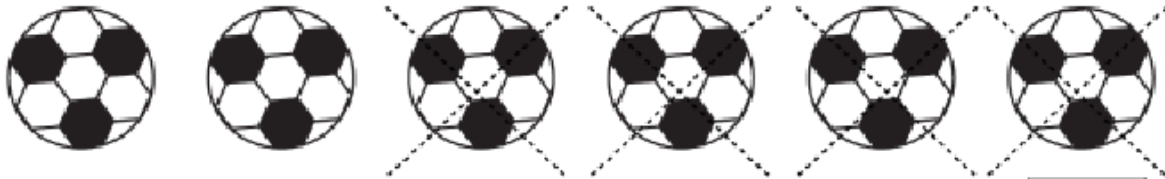
ΑΦΑΙΡΕΣΗ



ΑΦΑΙΡΕΣΗ



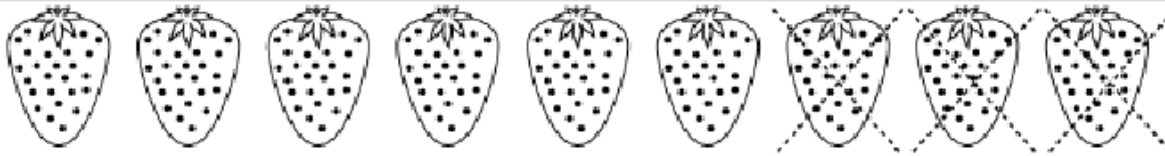
$$5 - 2 = \square$$




$$6 - 4 = \square$$



$$8 - 3 = \square$$



$$9 - 3 = \square$$



$$6 - 2 = \square$$