













ΕΡΓΑΣΙΕΣ Ουρανίας

Εργασία 1η

Μετρώ τα κέρματα του ευρώ σε κάθε κουτάκι και κυκλώνω το σωστό αριθμό.

					
1€	3€	2€	4€	2€	1€
					
2€	4€	3€	4€	2€	5€
					
4€	5€	3€	5€	6€	2€

					
4€	7€	6€	6€	5€	8€
					
8€	9€	5€	5€	10€	6€
					
5€	8€	6€	4€	6€	7€

<http://montessorivetsieklallag.com/>

Εργασία 2η























Παρατηρώ και μετρώ τα ευρώ σε κάθε πορτοφολάκι. Μετά γράφω πόσα είναι μέσα στο κουτάκι.



Κυκλώνω τα κέρματα που χρειαζομαι για να αγοράσω τα πράγματα που είναι στα κουτιά.



Όνομα _____

<p>19 λεπτά</p>  	<p>14 λεπτά</p>  	<p>17 λεπτά</p>  
<p>11 λεπτά</p>  	<p>20 λεπτά</p>  	<p>13 λεπτά</p>  
<p>12 λεπτά</p>  	<p>15 λεπτά</p>  	<p>16 λεπτά</p>  
<p>12 λεπτά</p>  	<p>13 λεπτά</p>  	<p>15 λεπτά</p> 