
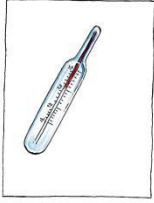










1) Να κοιτάξεις προσεκτικά τις εικόνες και να κυκλώσεις το αρχικό φώνημα

				
β ρ	φ θ	σ ζ	ψ ξ	ψ ξ

				
δ β	δ β	φ χ	ζ δ	χ ψ

2) Βάζω Θ ή θ, διαβάζω και ξαναγράφω

.....άλασσα → .....

.....υμώνω → .....

καλά .....ι → .....

πί .....ηκος → .....

κα .....αρό → .....

.....άνος → .....

3) Διαβάζω και ενώνω κάθε λέξη με ο,τι ταιριάζει:




παπαγάλος




μέλισσα



μακαρόνια



περιπολικό



αγελάδα



πίθηκος

4) Αντιγράφω τις λέξεις της προηγούμενης άσκησης στο τετράδιο μου 3 φορές και τις μαθαίνω για ορθογραφία καθώς και τις προτάσεις:

- Η μέλισσα κάνει μέλι.
- Ο πίθηκος και η αγελάδα είναι ζώα.

5) Να διαβάσεις τις προτάσεις:

Η Μαρία σήκωσε το  
τηλέφωνο.

Ο Φώτης φοβήθηκε το φίδι.

Το ποτήρι έπεσε και το νερό  
χύθηκε.

6) Γράφω δίπλα σε κάθε λέξη πως λέμε τα πολλά:

ένα

πολλά

το πουλί → τα .....

το φίδι → .....

το χέρι → .....

το αστέρι → .....

το ζάρι → .....

το βόδι → .....

7) Γράφω δίπλα σε κάθε λέξη πως λέμε το ένα:

ένα

πολλά

το μακαρόνι

←

τα μακαρόνια

.....

←

τα μολύβια

.....

←

τα πιθηκάκια

.....

←

τα караβάκια

.....

←

τα κολοκύθια

.....

←

τα καλάθια

8) Ενώνω και σχηματίζω προτάσεις:

Το μαξιλάρι \*

\* είναι καφέ.

Το λεμόνι \*

\* είναι απαλό.

Το ξύλο \*

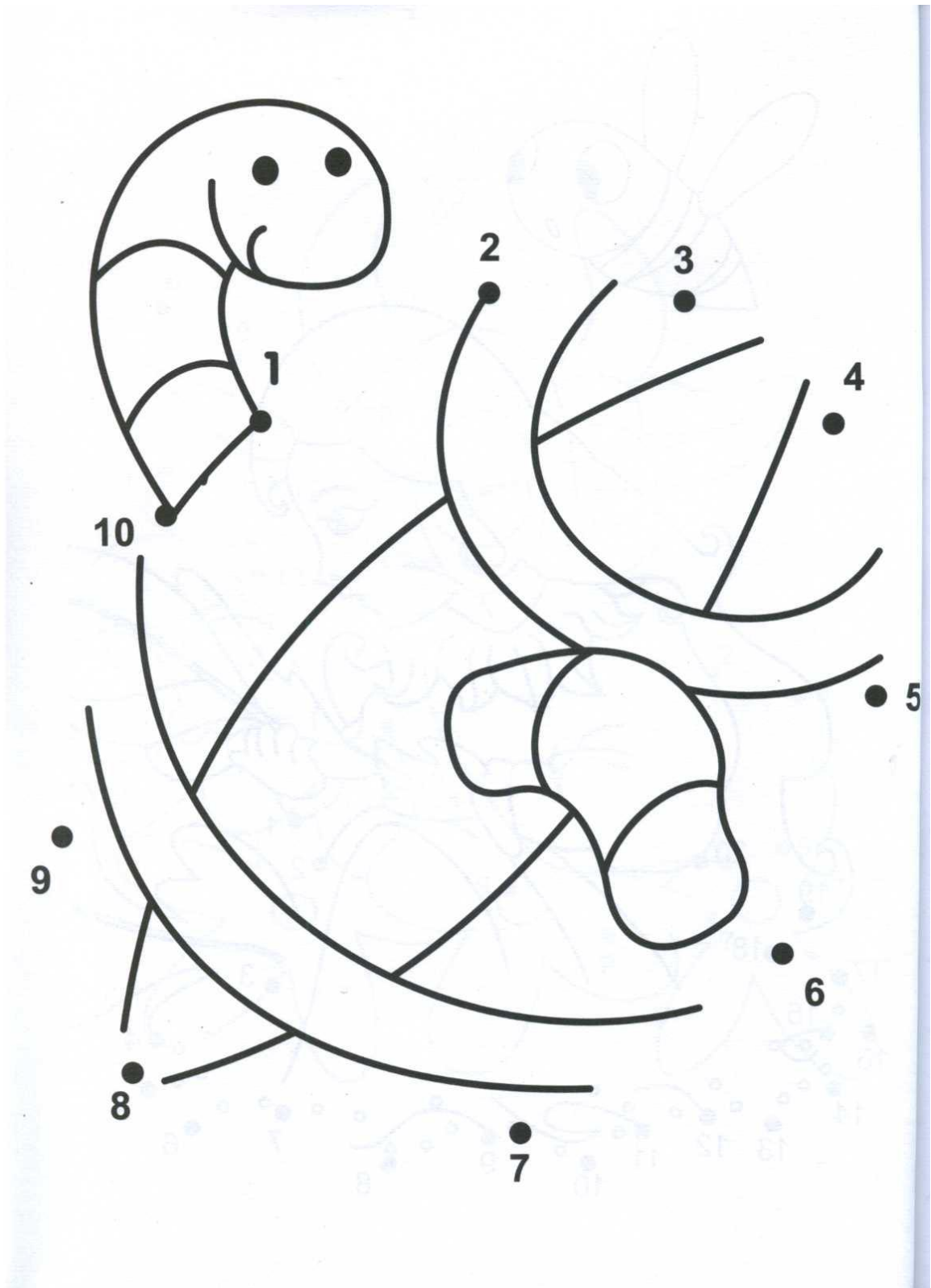
\* είναι ξινό.

.....









.....

.....

1) Να ενώσεις τους αριθμούς και να χρωματίσεις την εικόνα που σχηματίζεται:





2) Μετράω τα πατάκια και γράφω το σωστό αριθμό:


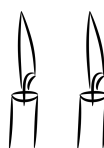


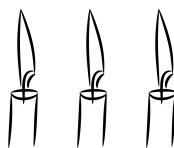

3) Σχεδιάζω τόσα κυκλάκια όσα λέει ο αριθμός:



6	
10	
8	
4	
5	
1	
3	
7	
9	
2	

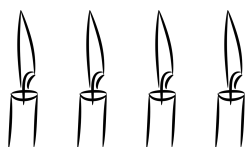

4) Να κάνεις τις προσθέσεις και να γράψεις τα αθροίσματα:

 +  =  +  =

 +  =  +  =

 +  =  +  =

 +  =  +  =

 +  =  +  =



5) Λύνω τα προβλήματα:

Ο Θάνος έφαγε 4 καραμέλες και ο Νικόλας 5 καραμέλες.  
Πόσες καραμέλες έφαγαν και τα δύο παιδιά μαζί;

Ζωγραφίζω:

Λύση:  +  =

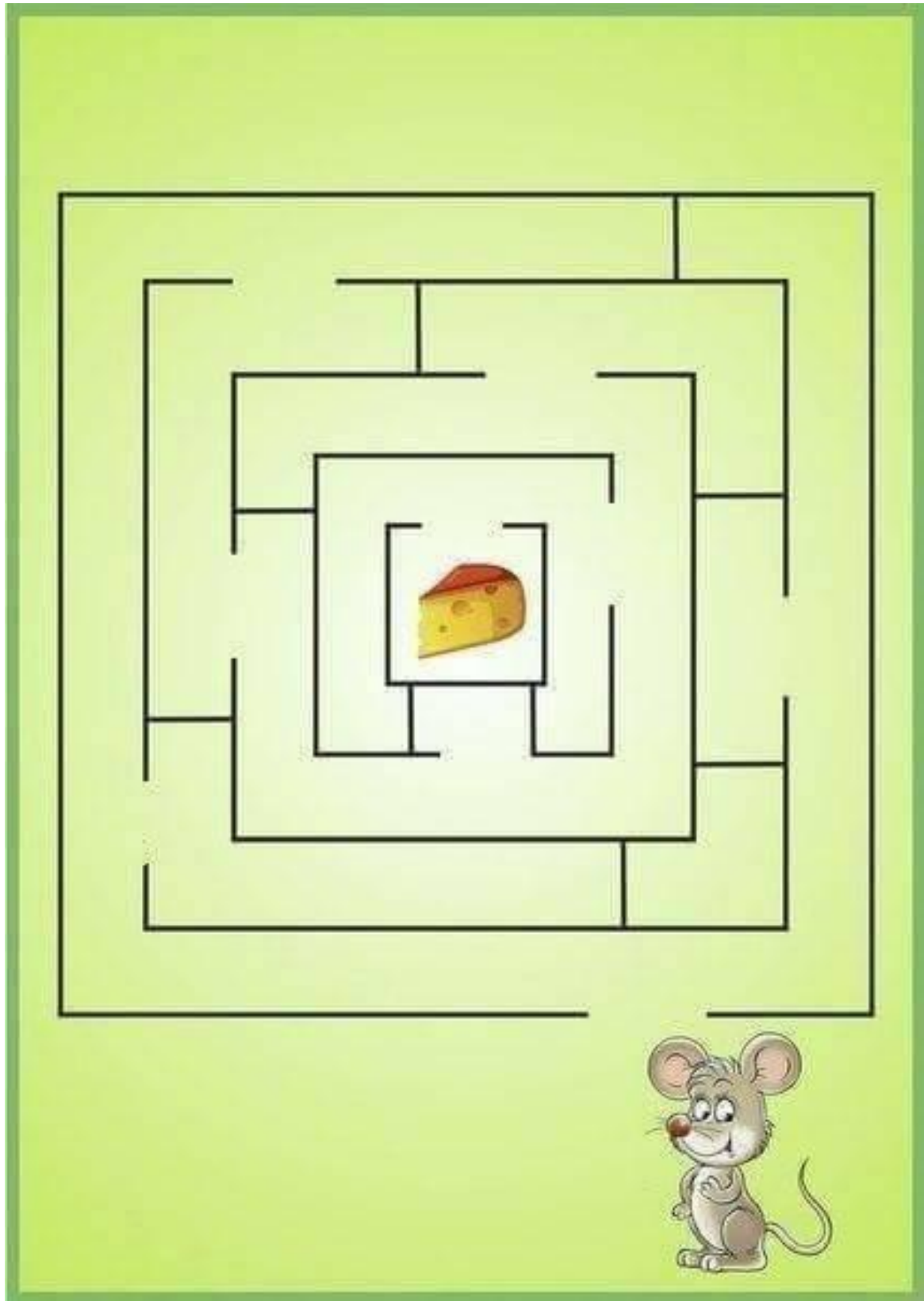
Απάντηση: Έφαγαν μαζί ..... καραμέλες.

Η Μαρία είχε 2 ευρώ και η μαμά της έδωσε άλλα 3 ευρώ.  
Πόσα ευρώ έχει συνολικά η Μαρία;


Ζωγραφίζω:

Λύση:  +  =

Απάντηση: Έχει συνολικά ..... ευρώ.



[https://efibarlou.blogspot.com/2017/02/blog-post\\_18.html](https://efibarlou.blogspot.com/2017/02/blog-post_18.html)



[https://efibarlou.blogspot.com/2017/02/blog-post\\_18.html](https://efibarlou.blogspot.com/2017/02/blog-post_18.html)



<https://efibarlou.blogspot.com>

