

Οι παρακάτω ασκήσεις μπορούν να γίνουν και προφορικά.

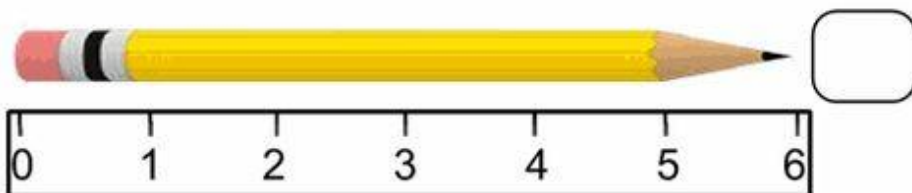
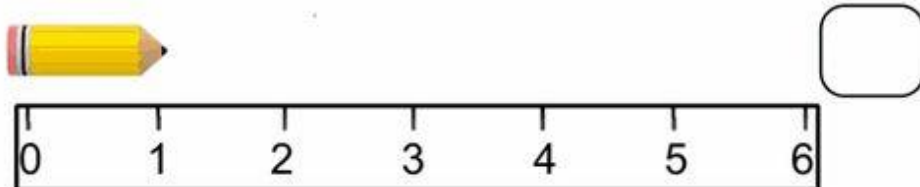
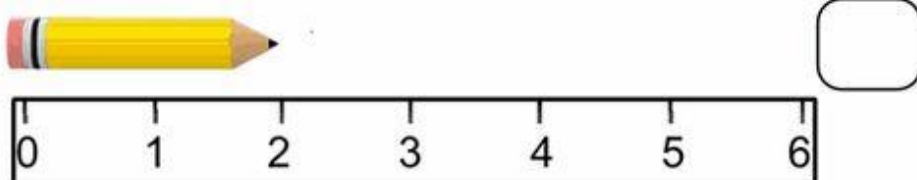
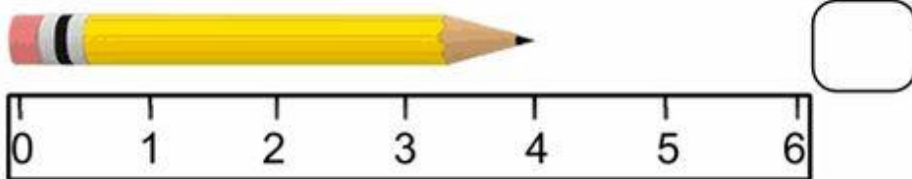
Υπολογίζω τα εκατοστά κάθε μολυβιού γράφω στο σωστό κουτάκι.



Using a ruler to measure length

Kindergarten Measurement Worksheet

Measure the length of each pencil and write it in the box.



Εντοπίζω τη χρωματισμένη εικόνα σε κάθε σειρά. Γράφω σε κάθε σειρά ποιό είναι χρωματισμένο.(Παράδειγμα: στην πρώτη σειρά είναι χρωματισμένα : το πρώτο ,το τέταρτο και το πέμπτο.)



Ordinal Numbers Worksheets

Color the objects corresponding to the given positions

1. Colour first, fourth and fifth flowers



1st First



2nd Second



3rd Third



4th Fourth



5th Fifth

2. Colour second, third and fifth oranges



3. Colour first, third and fifth caps



4. Colour second, fourth and sixth watermelon slices



10. Colour first, third and fifth fishes



ΠΡΟΒΛΗΜΑ

Ο Μιχάλης μάζεψε 52 αχλάδια και η Βασιλική 23. Τα έβαλαν όλα μαζί στο τραπέζι. Πόσα είναι όλα μαζί;

Τι θα κάνω _____

Λύνω το πρόβλημα κάνοντας την πράξη οριζόντια και κάθετα.

.....

.....

.....

.....

