

## Μαθηματικά


1. Μετρώ προφορικά ως το δέκα.
2. Γράφω τους αριθμούς που ξέρω με τη σειρά πολλές φορές.
3. Γράφω τους αριθμούς που λείπουν:

5 ... 7      1 2 ...      1 ... 3

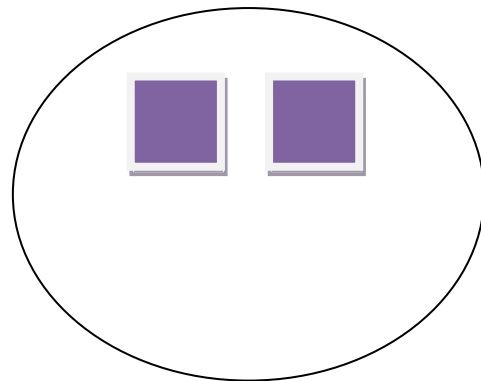
4 ... 6      6 ... 8

... 2 3      7 ... 9

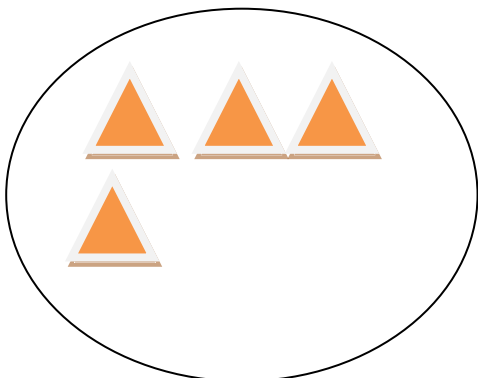
4. Συμπληρώνω τα σχέδια που λείπουν ώστε να είναι τόσα όσα λέει ο αριθμός.



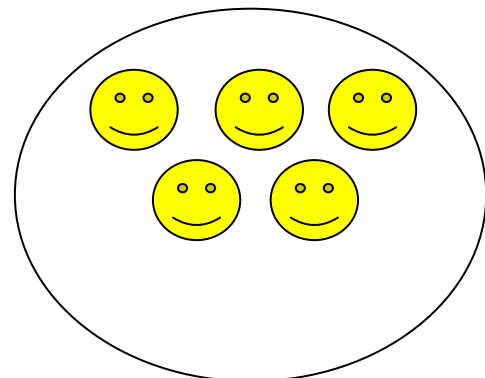
**3**



**5**



**7**



**6**

5. Προσθέτω τους αριθμούς

$$2 + 1 = \dots$$



$$2 + 2 = \dots$$



$$3 + 1 = \dots$$



$$4 + 1 = \dots$$

