

Μαθηματικά


1. Μετρώ προφορικά ως το δέκα.
2. Γράφω τους αριθμούς που ξέρω με τη σειρά πολλές φορές.
3. Γράφω τους αριθμούς που λείπουν:

5 ... 7 1 2 ... 8 ... 10

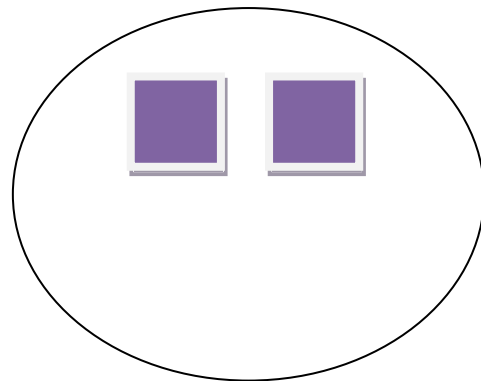
4 ... 6 6 ... 8 8 9

... 2 3 7 ... 9 1 ... 3

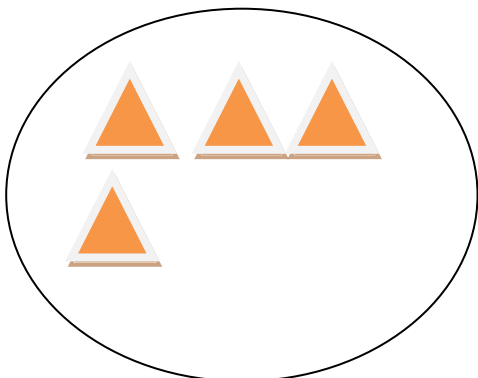
4. Συμπληρώνω τα σχέδια που λείπουν ώστε να είναι τόσα όσα λέει ο αριθμός.



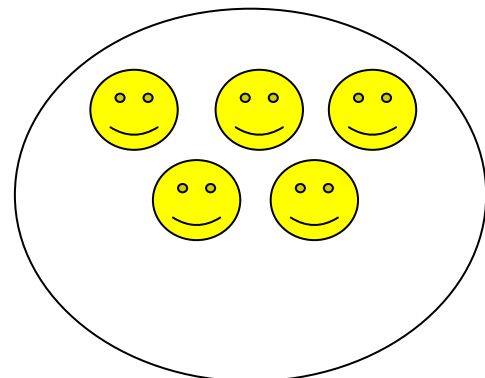
3



5



7



6

5. Προσθέτω τους αριθμούς

$$2 + 1 = \dots$$



$$2 + 2 = \dots$$



$$3 + 1 = \dots$$



$$4 + 1 = \dots$$

