


Επανάληψη τους αριθμούς 6-8




Ο αριθμός 8

- Κυκλώνω τον αριθμό 8:



- Γράφω τον αριθμό 8:



ΟΚΤΩ(ΟΧΤΩ)



Μαθηματικά Α' τάξης







Πρόσθεση των αριθμών μέχρι το 5 - οι αριθμοί 6, 7 και 8

Όνομα: .....

1. Ζωγράφισε τόσα κουτάκια όσα λέει ο αριθμός.

6	<input type="checkbox"/>	<input type="checkbox"/>	<input type="checkbox"/>	<input type="checkbox"/>	<input type="checkbox"/>	<input type="checkbox"/>	<input type="checkbox"/>	<input type="checkbox"/>	<input type="checkbox"/>
7	<input type="checkbox"/>	<input type="checkbox"/>	<input type="checkbox"/>	<input type="checkbox"/>	<input type="checkbox"/>	<input type="checkbox"/>	<input type="checkbox"/>	<input type="checkbox"/>	<input type="checkbox"/>
8	<input type="checkbox"/>	<input type="checkbox"/>	<input type="checkbox"/>	<input type="checkbox"/>	<input type="checkbox"/>	<input type="checkbox"/>	<input type="checkbox"/>	<input type="checkbox"/>	<input type="checkbox"/>

2. Υπολόγισε και γράψε το αποτέλεσμα.

 <input type="checkbox"/>	και	 <input type="checkbox"/>	→	 <input type="checkbox"/>
 <input type="checkbox"/>	και	 <input type="checkbox"/>	→	 <input type="checkbox"/>